


LBRIS

We know
books


gama®



LEXICPro

ORTOGRAME

clasele a II-a și a III-a

1. Încercuiește ortogramele potrivite.

Scrie câte puncte ai adunat:



Ai peste 80?

Lipește steluța pe diplomă.

- 1 Barza stă într-un/într-o picior.
- 2 Bunica a pus scrisoarea într-o/într-un plic.
- 3 Marinarul a pus mesajul într-o/într-un sticlă.
- 4 Maria a scăpat inelul într-o/într-un fântână.
- 5 Florin desenează într-o/într-un caiet.

2. Unește ortogramele de cuvintele potrivite.

- 1 copac
- 2 școală
- 3 căruță
- 4 sat
- 5 papuc

ÎNTR-UN

ÎNTR-O

- 6 carte
- 7 ghiozdan
- 8 secundă
- 9 cântec
- 10 seară

3. Completează cu „într-o” sau „într-un”.

- 1 Matei vrea să se ascundă dulap.
- 2 Aș putea să torn sucul pahar sau cană.
- 3 Mama mi-a pus lapte bol albastru.
- 4 Veverița s-a ascuns scorbură.
- 5 Cu toții au căzut capcană.

= 5 puncte



We know

DINTR-UN și **DINTR-O** sunt formate din perechi de cuvinte diferite care se rostesc împreună. Ele se scriu întotdeauna cu cratimă.

Scrisse câte puncte ai adunat:



1. Subliniază „dintr-o” cu roșu și „dintr-un” cu albastru.

- 1 A scos poza dintr-un buzunar.
- 2 Se întoarce dintr-o vacanță îndelungată.
- 3 Pisica a sărit dintr-un coș cu haine.
- 4 Am citit o poveste dintr-o carte primită de ziua mea.
- 5 A ajuns aici dintr-o greșeală.
- 6 Merele dintr-un coș erau toate stricate.
- 7 Dintr-o asemenea încurcătură este greu să ieși.
- 8 Dintr-un prieten foarte bun te-ai transformat într-un străin.
- 9 Dintr-o bucată de pâine s-au săturat amândoi.
- 10 Mă trag dintr-o familie muncitoare.
- 11 Puii de pisică au fost salvați dintr-un incendiu.
- 12 Au ajuns să se certe dintr-o joacă.
- 13 Dintr-un sul de mătase a făcut patru rochii.
- 14 Putea să fie chemat dintr-un moment într-altul.
- 15 Am vărsat jumătate dintr-o pungă cu făină.

2. Alcătuieste două propoziții cu „dintr-o” și trei propoziții cu „dintr-un”.

- 1
- 2
- 3
- 4
- 5

.....

.....

.....

.....

.....

= 5 puncte

DINTR-O și DINTR-UN

1. Încercuiește ortogramele potrivite.

Scrie câte puncte ai adunat:



- 1 Fratele meu a mâzgălit toate paginile dintr-o/dintr-un carte.
- 2 Pisica bea lapte dintr-un/dintr-o farfurie.
- 3 Prietenul meu s-a supărat dintr-un/dintr-o prostie.
- 4 Colega mea s-a mutat aici dintr-un/dintr-o orășel de munte.
- 5 Rareș a căzut dintr-un/dintr-o remorcă de camion.

2. Unește ortogramele de cuvintele potrivite.

- 1 sertar
- 2 câmpie
- 3 familie
- 4 text
- 5 borcan


DINTR-UN

DINTR-O

- 6 pungă
- 7 lac
- 8 grădină
- 9 pălărie
- 10 ocean

3. Completează cu „dintr-o” sau „dintr-un”.

- 1 Prietena mea a ieșit magazin.
- 2 Paul transcrie o poezie carte.
- 3 L-am rugat să scoată o cutie dulap de sus.
- 4 M-a învins singură mișcare.
- 5 Nu sunt sigură dacă e făcută singură bucată.

 = 5 puncte

LBRIS

We know
books


gama®



ÎMPĂRȚIREA

clasa a II-a




Scrie câte puncte ai adunat:



Ai peste 80?

Lipește steluța pe diplomă.



$2 \times 2 =$



$3 \times 2 =$



$1 \times 3 =$



$3 \times 5 =$



$6 \times 3 =$



$2 \times 3 =$



$4 \times 2 =$



$1 \times 4 =$



$3 \times 6 =$



$7 \times 3 =$



$2 \times 4 =$



$5 \times 2 =$



$1 \times 5 =$



$3 \times 7 =$



$8 \times 3 =$



$2 \times 5 =$



$6 \times 2 =$



$1 \times 6 =$



$3 \times 8 =$



$9 \times 3 =$



$2 \times 6 =$



$7 \times 2 =$



$2 \times 7 =$




$1 \times 7 =$



$1 \times 8 =$

Scrie câte puncte ai adunat:



Ai peste 80?

Lipește steluța pe diplomă.

1 $10 \times 5 =$

2 $0 \times 7 =$

3 $0 \times 8 =$

4 $2 \times 9 =$

5 $2 \times 10 =$

6 $5 \times 1 =$

7 $1 \times 2 =$

8 $5 \times 3 =$

9 $10 \times 2 =$

10 $5 \times 3 =$

11 $8 \times 4 =$

12 $1 \times 6 =$

13 $2 \times 7 =$

14 $2 \times 8 =$

15 $3 \times 9 =$

16 $3 \times 10 =$

17 $6 \times 1 =$

18 $1 \times 3 =$

19 $1 \times 4 =$

20 $1 \times 0 =$

21 $6 \times 3 =$

22 $9 \times 4 =$

23 $2 \times 6 =$

24 $3 \times 7 =$

25 $3 \times 8 =$



Completează căsuțele,
după model.

Scrive câte puncte ai adunat:



$2 \times 4 = \boxed{4} \times 2 = \boxed{8}$

$\star_{13} \quad \boxed{} \times 2 = 2 \times 6 = \boxed{}$

$\star_1 \quad 2 \times 5 = \boxed{} \times 2 = \boxed{}$

$\star_{14} \quad 7 \times \boxed{} = 4 \times 7 = \boxed{}$

$\star_2 \quad \boxed{} \times 5 = 5 \times 4 = \boxed{}$

$\star_{15} \quad 8 \times 5 = \boxed{} \times 8 = \boxed{}$

$\star_3 \quad 9 \times \boxed{} = 2 \times 9 = \boxed{}$

$\star_{16} \quad 9 \times 8 = 8 \times \boxed{} = \boxed{}$

$\star_4 \quad 9 \times 3 = \boxed{} \times 9 = \boxed{}$

$\star_{17} \quad 10 \times 9 = \boxed{} \times 10 = \boxed{}$

$\star_5 \quad 9 \times \boxed{} = 1 \times 9 = \boxed{}$

$\star_{18} \quad 3 \times \boxed{} = 4 \times 3 = \boxed{}$

$\star_6 \quad 10 \times 3 = \boxed{} \times 10 = \boxed{}$

$\star_{19} \quad \boxed{} \times 9 = 9 \times 8 = \boxed{}$

$\star_7 \quad 4 \times \boxed{} = 7 \times 4 = \boxed{}$

$\star_{20} \quad 5 \times 1 = \boxed{} \times 5 = \boxed{}$

$\star_8 \quad 3 \times 9 = \boxed{} \times 3 = \boxed{}$

$\star_{21} \quad 6 \times 3 = 3 \times \boxed{} = \boxed{}$

$\star_9 \quad \boxed{} \times 8 = 8 \times 2 = \boxed{}$

$\star_{22} \quad \boxed{} \times 5 = 5 \times 7 = \boxed{}$

$\star_{10} \quad 3 \times 2 = \boxed{} \times 3 = \boxed{}$

$\star_{23} \quad 8 \times \boxed{} = 6 \times 8 = \boxed{}$

$\star_{11} \quad 8 \times 8 = 8 \times \boxed{} = \boxed{}$

$\star_{24} \quad 9 \times 9 = \boxed{} \times 9 = \boxed{}$

$\star_{12} \quad 4 \times \boxed{} = 10 \times 4 = \boxed{}$

$\star_{25} \quad 3 \times 5 = 5 \times \boxed{} = \boxed{}$

= 4 puncte

LBRIS

We know
books


gama®



ÎNMULTIREA

clasa a II-a



Ai peste 80?
Lipește steluța pe diplomă.

Înmulțirea este adunarea repetată a aceluiași număr.

Exemplu:

$$\underbrace{4 + 4 + 4 + 4 + 4}_{4 \times 5} = 20$$



- | | | | |
|------|---------------|------|-------------------|
| ★ 1 | $1 + 1 =$ | ★ 14 | $6 + 6 + 6 =$ |
| ★ 2 | $2 + 2 =$ | ★ 15 | $9 + 9 + 9 =$ |
| ★ 3 | $3 + 3 =$ | ★ 16 | $7 + 7 + 7 =$ |
| ★ 4 | $4 + 4 =$ | ★ 17 | $1 + 1 + 1 =$ |
| ★ 5 | $7 + 7 =$ | ★ 18 | $0 + 0 + 0 =$ |
| ★ 6 | $8 + 8 =$ | ★ 19 | $6 + 6 + 6 + 6 =$ |
| ★ 7 | $9 + 9 =$ | ★ 20 | $9 + 9 + 9 + 9 =$ |
| ★ 8 | $0 + 0 =$ | ★ 21 | $1 + 1 + 1 + 1 =$ |
| ★ 9 | $4 + 4 + 4 =$ | ★ 22 | $3 + 3 + 3 + 3 =$ |
| ★ 10 | $1 + 1 + 1 =$ | ★ 23 | $7 + 7 + 7 + 7 =$ |
| ★ 11 | $3 + 3 + 3 =$ | ★ 24 | $2 + 2 + 2 + 2 =$ |
| ★ 12 | $5 + 5 + 5 =$ | ★ 25 | $5 + 5 + 5 + 5 =$ |
| ★ 13 | $2 + 2 + 2 =$ | | |

Scrisse câte puncte ai adunat:



Ai peste 80?

Lipește steluța pe diplomă.

- 1 $0 + 0 + 0 + 0 =$
- 2 $0 + 0 + 0 + 0 + 0 =$
- 3 $0 + 0 + 0 + 0 + 0 + 0 =$
- 4 $0 + 0 + 0 + 0 + 0 + 0 + 0 =$
- 5 $0 + 0 + 0 + 0 + 0 + 0 + 0 + 0 =$
- 6 $1 + 1 + 1 + 1 =$
- 7 $1 + 1 + 1 + 1 + 1 =$
- 8 $1 + 1 + 1 + 1 + 1 + 1 =$
- 9 $1 + 1 + 1 + 1 + 1 + 1 + 1 =$
- 10 $1 + 1 + 1 + 1 + 1 + 1 + 1 + 1 =$
- 11 $2 + 2 + 2 + 2 =$
- 12 $2 + 2 + 2 + 2 + 2 =$
- 13 $2 + 2 + 2 + 2 + 2 + 2 =$
- 14 $2 + 2 + 2 + 2 + 2 + 2 + 2 =$
- 15 $2 + 2 + 2 + 2 + 2 + 2 + 2 + 2 =$
- 16 $3 + 3 + 3 + 3 =$
- 17 $3 + 3 + 3 + 3 + 3 =$
- 18 $3 + 3 + 3 + 3 + 3 + 3 =$
- 19 $3 + 3 + 3 + 3 + 3 + 3 + 3 =$
- 20 $3 + 3 + 3 + 3 + 3 + 3 + 3 + 3 =$



1 $3 + 3 + 3 + 3 + 3 + 3 + 3 + 3 + 3 =$

2 $3 + 3 + 3 + 3 + 3 + 3 + 3 + 3 + 3 + 3 =$

3 $4 + 4 + 4 + 4 =$

4 $4 + 4 + 4 + 4 + 4 =$

5 $4 + 4 + 4 + 4 + 4 + 4 =$

6 $4 + 4 + 4 + 4 + 4 + 4 + 4 =$

7 $4 + 4 + 4 + 4 + 4 + 4 + 4 + 4 =$

8 $4 + 4 + 4 + 4 + 4 + 4 + 4 + 4 + 4 =$

9 $4 + 4 + 4 + 4 + 4 + 4 + 4 + 4 + 4 + 4 =$

10 $5 + 5 + 5 + 5 =$

11 $5 + 5 + 5 + 5 + 5 =$

12 $5 + 5 + 5 + 5 + 5 + 5 =$

13 $5 + 5 + 5 + 5 + 5 + 5 + 5 =$

14 $5 + 5 + 5 + 5 + 5 + 5 + 5 + 5 + 5 =$

15 $5 + 5 + 5 + 5 + 5 + 5 + 5 + 5 + 5 + 5 =$

16 $6 + 6 + 6 =$

17 $6 + 6 + 6 + 6 =$

18 $6 + 6 + 6 + 6 + 6 =$

19 $6 + 6 + 6 + 6 + 6 + 6 =$

20 $6 + 6 + 6 + 6 + 6 + 6 + 6 =$



LBRIS

We know
books













SCĂDEREA


clasa a II-a

Scrie câte puncte ai adunat:



Ai peste 80?
Lipește steluța pe diplomă.

	20	-1	-2	-3	-4
		<input type="text"/>	<input type="text"/>	<input type="text"/>	<input type="text"/>
	25	-1	-2	-3	-4
		<input type="text"/>	<input type="text"/>	<input type="text"/>	<input type="text"/>
	30	-1	-2	-3	-4
		<input type="text"/>	<input type="text"/>	<input type="text"/>	<input type="text"/>
	35	-1	-2	-3	-4
		<input type="text"/>	<input type="text"/>	<input type="text"/>	<input type="text"/>
	40	-1	-2	-3	-4
		<input type="text"/>	<input type="text"/>	<input type="text"/>	<input type="text"/>
	45	-1	-2	-3	-4
		<input type="text"/>	<input type="text"/>	<input type="text"/>	<input type="text"/>
	50	-1	-2	-3	-4
		<input type="text"/>	<input type="text"/>	<input type="text"/>	<input type="text"/>
	23	-1	-2	-3	-4
		<input type="text"/>	<input type="text"/>	<input type="text"/>	<input type="text"/>
	34	-1	-2	-3	-4
		<input type="text"/>	<input type="text"/>	<input type="text"/>	<input type="text"/>
	42	-1	-2	-3	-4
		<input type="text"/>	<input type="text"/>	<input type="text"/>	<input type="text"/>

 = 10 puncte

Recapitulare
 Scăderea numerelor de două cifre cu numere de o cifră

Scrisse câte puncte ai adunat:



Ai peste 80?

Lipește steluța pe diplomă.

1 52 $\xrightarrow{-6}$ $\xrightarrow{-7}$ $\xrightarrow{-8}$ $\xrightarrow{-9}$

2 58 $\xrightarrow{-6}$ $\xrightarrow{-7}$ $\xrightarrow{-8}$ $\xrightarrow{-9}$

3 60 $\xrightarrow{-6}$ $\xrightarrow{-7}$ $\xrightarrow{-8}$ $\xrightarrow{-9}$

4 65 $\xrightarrow{-6}$ $\xrightarrow{-7}$ $\xrightarrow{-8}$ $\xrightarrow{-9}$

5 63 $\xrightarrow{-6}$ $\xrightarrow{-7}$ $\xrightarrow{-8}$ $\xrightarrow{-9}$

6 57 $\xrightarrow{-6}$ $\xrightarrow{-7}$ $\xrightarrow{-8}$ $\xrightarrow{-9}$

7 61 $\xrightarrow{-6}$ $\xrightarrow{-7}$ $\xrightarrow{-8}$ $\xrightarrow{-9}$

8 69 $\xrightarrow{-6}$ $\xrightarrow{-7}$ $\xrightarrow{-8}$ $\xrightarrow{-9}$

9 50 $\xrightarrow{-6}$ $\xrightarrow{-7}$ $\xrightarrow{-8}$ $\xrightarrow{-9}$

10 54 $\xrightarrow{-6}$ $\xrightarrow{-7}$ $\xrightarrow{-8}$ $\xrightarrow{-9}$

= 10 puncte



Rezolvă:

Scrie câte puncte ai adunat:



1 $11 - 9$

2 $13 - 0$

3 $18 - 1$

4 $26 - 6$

5 $38 - 6$

6 $47 - 6$

7 $93 - 6$

8 $23 - 5$

9 $28 - 5$

10 $41 - 6$

11 $42 - 6$

12 $45 - 7$

13 $64 - 8$

14 $66 - 9$

15 $80 - 1$

16 $91 - 3$

17 $92 - 4$

18 $54 - 3$

19 $59 - 4$

20 $11 - 8$

= 5 puncte

Recapitulare
Scăderea numerelor de două cifre cu numere de o cifră

LBRIS

We know
books













ADUNAREA


clasa a II-a

Scrive câte puncte ai adunat:



Ai peste 80?
Lipește steluța pe diplomă.

	10	$+1 \rightarrow$	$+2 \rightarrow$	$+3 \rightarrow$	$+4 \rightarrow$
		<input type="text"/>	<input type="text"/>	<input type="text"/>	<input type="text"/>
	12	$+1 \rightarrow$	$+2 \rightarrow$	$+3 \rightarrow$	$+4 \rightarrow$
		<input type="text"/>	<input type="text"/>	<input type="text"/>	<input type="text"/>
	13	$+1 \rightarrow$	$+2 \rightarrow$	$+3 \rightarrow$	$+4 \rightarrow$
		<input type="text"/>	<input type="text"/>	<input type="text"/>	<input type="text"/>
	14	$+1 \rightarrow$	$+2 \rightarrow$	$+3 \rightarrow$	$+4 \rightarrow$
		<input type="text"/>	<input type="text"/>	<input type="text"/>	<input type="text"/>
	15	$+1 \rightarrow$	$+2 \rightarrow$	$+3 \rightarrow$	$+4 \rightarrow$
		<input type="text"/>	<input type="text"/>	<input type="text"/>	<input type="text"/>
	16	$+1 \rightarrow$	$+2 \rightarrow$	$+3 \rightarrow$	$+4 \rightarrow$
		<input type="text"/>	<input type="text"/>	<input type="text"/>	<input type="text"/>
	17	$+1 \rightarrow$	$+2 \rightarrow$	$+3 \rightarrow$	$+4 \rightarrow$
		<input type="text"/>	<input type="text"/>	<input type="text"/>	<input type="text"/>
	18	$+1 \rightarrow$	$+2 \rightarrow$	$+3 \rightarrow$	$+4 \rightarrow$
		<input type="text"/>	<input type="text"/>	<input type="text"/>	<input type="text"/>
	19	$+1 \rightarrow$	$+2 \rightarrow$	$+3 \rightarrow$	$+4 \rightarrow$
		<input type="text"/>	<input type="text"/>	<input type="text"/>	<input type="text"/>
	20	$+1 \rightarrow$	$+2 \rightarrow$	$+3 \rightarrow$	$+4 \rightarrow$
		<input type="text"/>	<input type="text"/>	<input type="text"/>	<input type="text"/>

 = 10 puncte

Rezolvă:

Scrie câte puncte ai adunat:



Ai peste 80?
Lipește steluța pe diplomă.

1 **30** $\xrightarrow{+6}$ $\xrightarrow{+7}$ $\xrightarrow{+8}$ $\xrightarrow{+9}$

2 **40** $\xrightarrow{+6}$ $\xrightarrow{+7}$ $\xrightarrow{+8}$ $\xrightarrow{+9}$

3 **50** $\xrightarrow{+6}$ $\xrightarrow{+7}$ $\xrightarrow{+8}$ $\xrightarrow{+9}$

4 **60** $\xrightarrow{+6}$ $\xrightarrow{+7}$ $\xrightarrow{+8}$ $\xrightarrow{+9}$

5 **70** $\xrightarrow{+6}$ $\xrightarrow{+7}$ $\xrightarrow{+8}$ $\xrightarrow{+9}$

6 **21** $\xrightarrow{+6}$ $\xrightarrow{+7}$ $\xrightarrow{+8}$ $\xrightarrow{+9}$

7 **22** $\xrightarrow{+6}$ $\xrightarrow{+7}$ $\xrightarrow{+8}$ $\xrightarrow{+9}$

8 **31** $\xrightarrow{+6}$ $\xrightarrow{+7}$ $\xrightarrow{+8}$ $\xrightarrow{+9}$

9 **35** $\xrightarrow{+6}$ $\xrightarrow{+7}$ $\xrightarrow{+8}$ $\xrightarrow{+9}$

10 **44** $\xrightarrow{+6}$ $\xrightarrow{+7}$ $\xrightarrow{+8}$ $\xrightarrow{+9}$

= 10 puncte



☆1	$56 +$	☆2	$57 +$	☆3	$58 +$	☆4	$59 +$
	<u>5</u>		<u>5</u>		<u>5</u>		<u>5</u>

☆5	$63 +$	☆6	$64 +$	☆7	$84 +$	☆8	$85 +$
	<u>5</u>		<u>6</u>		<u>6</u>		<u>7</u>

☆9	$96 +$	☆10	$98 +$	☆11	$99 +$	☆12	$17 +$
	<u>4</u>		<u>2</u>		<u>1</u>		<u>9</u>

☆13	$18 +$	☆14	$19 +$	☆15	$16 +$	☆16	$17 +$
	<u>9</u>		<u>9</u>		<u>8</u>		<u>8</u>

☆17	$21 +$	☆18	$21 +$	☆19	$22 +$	☆20	$29 +$
	<u>0</u>		<u>9</u>		<u>8</u>		<u>1</u>

Pentru cititori începători

Sunt dependent de ecrane

STRADA PRIETENILOR



We know
books
Balena ta e
foarte frumoasă!



Desenezi foarte
bine, Teo!




Teo, lasă loc
sub balenă!




Am putea
scrie: „Salvați
balenele!”.

Și: „Specie pe
cale de dispariție.
Protejați-le!”.



LBRIS



Apropo,
unde-i Eric?

Zicea că azi pleacă
la bunica lui.

